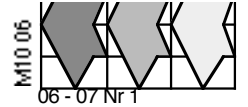
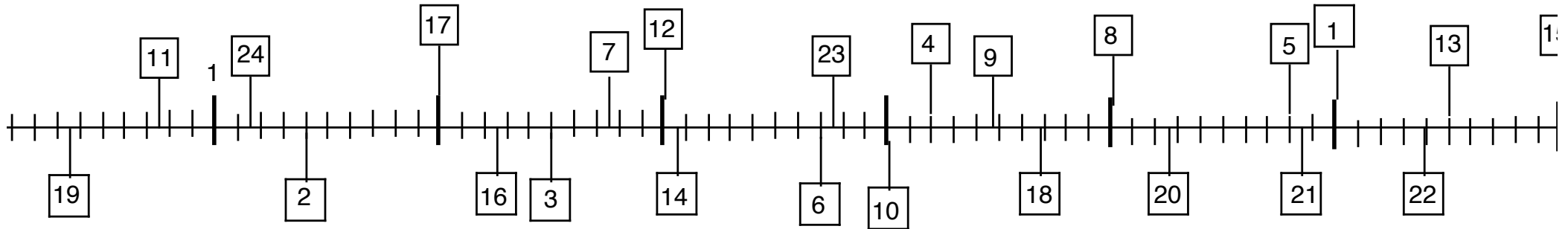


# Dezimalzahlen auf dem Zahlenstrahl



Wo auf dem Zahlenstrahl befinden sich die Dezimalzahlen?



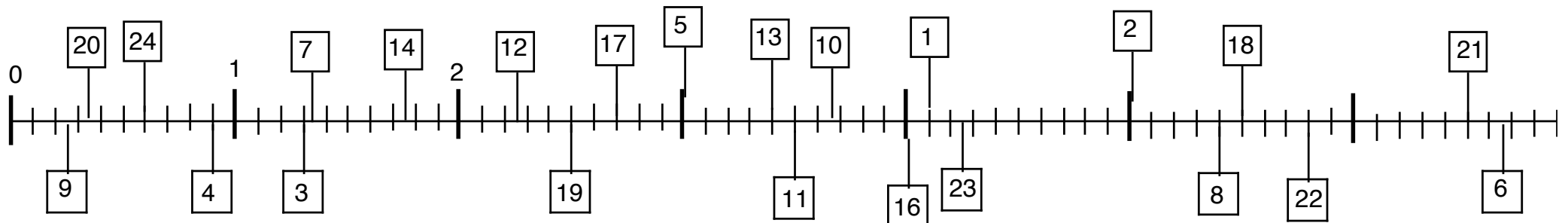
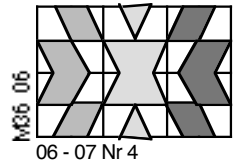
- 1. 2
- 2. 7
- 3. 5
- 4. 3
- 5. 6
- 6. 4

- 7. 2,5
- 8. 5,8
- 9. 6,5
- 10. 1,4
- 11. 3,7
- 12. 4,2

- 13. 3,75
- 14. 5,85
- 15. 0,35
- 16. 1,15
- 17. 4,48
- 18. 5,27

- 19. 2,256
- 20. 0,754
- 21. 2,749
- 22. 6,395
- 23. 4,672
- 24. 3,058

# Brüche auf dem Zahlenstrahl



- 1.  $\frac{1}{7}$
- 2.  $\frac{1}{3}$
- 3.  $\frac{1}{5}$
- 4.  $\frac{1}{4}$

- 5.  $2\frac{1}{2}$
- 6.  $5\frac{1}{2}$
- 7.  $3\frac{1}{2}$
- 8.  $2\frac{1}{1}$

- 9.  $3\frac{2}{5}$
- 10.  $5\frac{2}{5}$
- 11.  $5\frac{4}{5}$
- 12.  $2\frac{1}{3}$

- 13.  $1\frac{3}{10}$
- 14.  $2\frac{7}{10}$
- 15.  $4\frac{1}{10}$
- 16.  $1\frac{1}{10}$

- 17.  $4\frac{1}{4}$
- 18.  $1\frac{3}{4}$
- 19.  $2\frac{1}{4}$
- 20.  $1\frac{1}{4}$

- 21.  $1\frac{1}{3}$
- 22.  $6\frac{2}{3}$
- 23.  $3\frac{2}{3}$
- 24.  $1\frac{1}{3}$