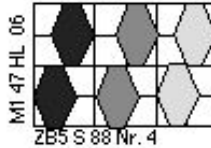
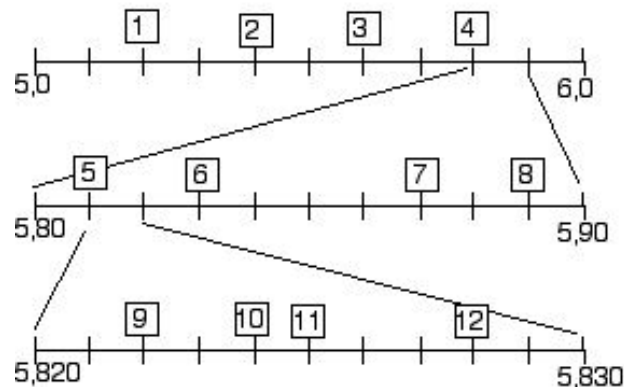


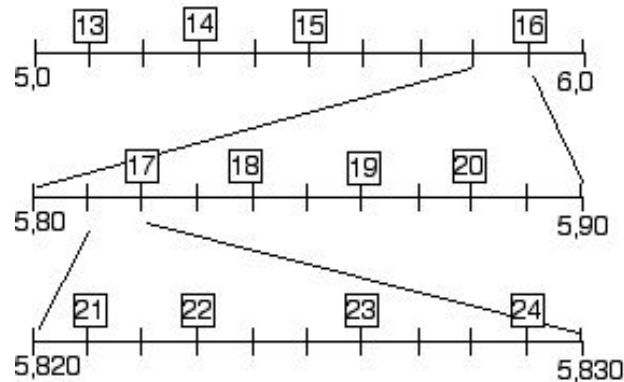
LÜK Auf dem Zahlenstrahl 1



Wie heissen die Brüche auf dem Zahlenstrahl?

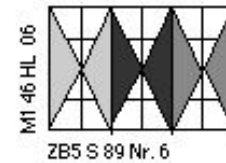


1. 5,2
2. 5,825
3. 5,4
4. 5,828
5. 5,822
6. 5,824
7. 5,88
8. 5,9
9. 5,82
10. 5,823
11. 5,821
12. 5,84

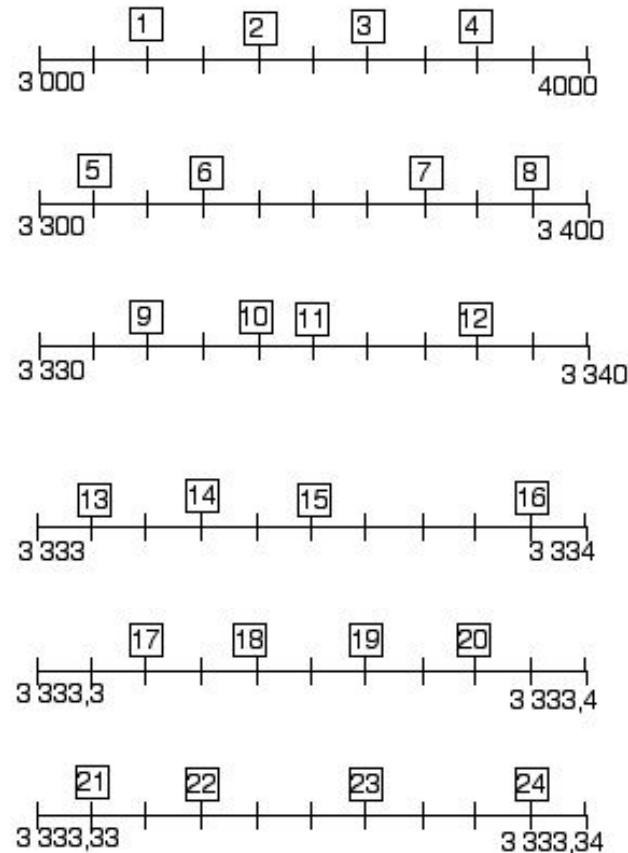


13. 5,89
14. 5,8
15. 5,87
16. 5,83
17. 5,81
18. 5,6
19. 5,1
20. 5,826
21. 5,3
22. 5,86
23. 5,5
24. 5,829

LÜK Auf dem Zahlenstrahl 2



Wie heissen die Zahlen auf dem Zahlenstrahl?



1. 3 335
2. 3 390
3. 3 334
4. 3 310
5. 3 338
6. 3 370
7. 3 800
8. 3 200
9. 3 600
10. 3 332
11. 3 330
12. 3 400
13. 3 333,336
14. 3 333,38
15. 3 333,339
16. 3 333,331
17. 3 333,36
18. 3 333,32
19. 3 333,9
20. 3 333,1
21. 3 333,34
22. 3 333,5
23. 3 333,333
24. 3 333,3